

# Simple Solutions.



**Minutes a Day-Mastery for a Lifetime!**











## Nivel K

2<sup>da</sup> Edición

## Matemáticas

## Páginas de Ayuda

## Páginas de Ayuda

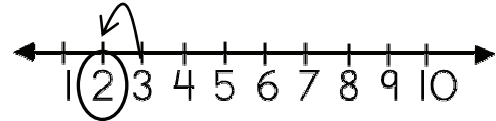
Números	
0	cero
1	uno 
2	dos 
3	tres 
4	cuatro 
5	cinco 
6	seis 
7	siete 
8	ocho 
9	nueve 
10	diez 

# Páginas de Ayuda

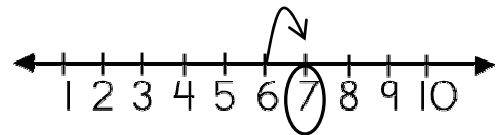
## Comparar

### Antes/después:

El número que está **antes** de 3 es 2.



El número que está **después** de 6 es 7.



### Más/menos:



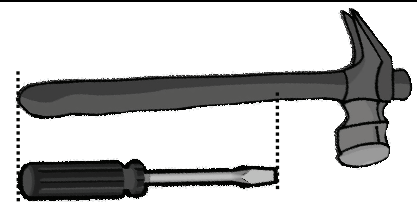
Este grupo tiene **más**.

Este grupo tiene **menos**.

El número **5** es más que 3.


### Más largo/más corto:

El martillo es **más largo** que el destornillador.  
El destornillador es **más corto** que el martillo.



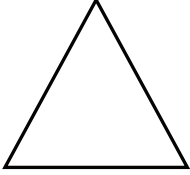

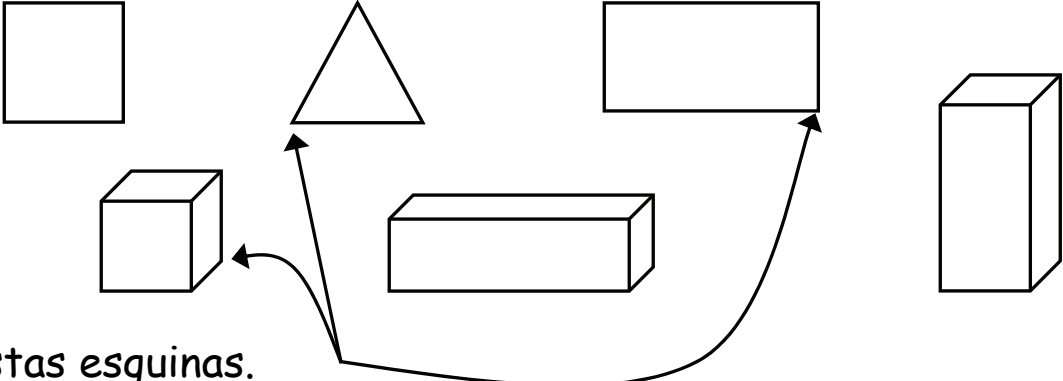
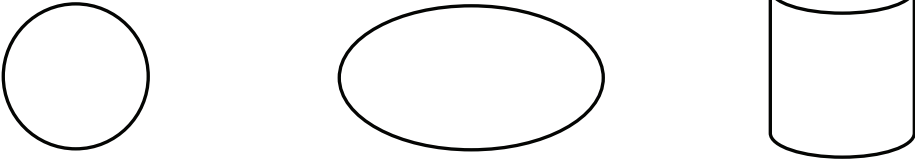


### Más alto/más bajo:

La lámpara es **más alta** que la vela.  
La vela es **más corta** que la lámpara.



## Páginas de Ayuda

Figuras			
Círculo 	Cuadrado 	Triángulo 	Rectángulo 
<p>Algunas figuras tienen esquinas.</p>  <p>Mira estas esquinas.</p>			
<p>Algunas figuras no tienen esquinas.</p> 			

# Páginas de Ayuda

## Dinero



Esto es una **moneda de un centavo**. Vale **1¢**.



Esto es una **moneda de cinco centavos**. Vale **5¢**.



Esto es una **moneda de diez centavos**. Vale **10¢**.


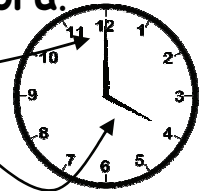
## Tiempo

Un reloj tiene dos manecillas. La manecilla larga es el **minutero**. La manecilla corta es la **manecilla de la hora**.

El minutero apunta hacia las 12.

En este reloj, la manecilla de la hora apunta hacia las 4.

La hora es las **cuatro en punto** o las 4:00.



La hora es las **nueve en punto** o las 9:00.

# Páginas de Ayuda

Calendario:

Leer el calendario:

**Junio**

Domingo	Lunes	Martes	Miércoles	Jueves	Viernes	Sábado
		1	2	3	4	5
6	7	8	9	10	11	12
13	14	15	16	17	18	19
20	21	22	23	24	25	26
27	28	29	30			

- Un calendario muestra el **nombre del mes**. Este mes es **junio**.
- Los **días de la semana** están en la parte superior del calendario. Hay **7** días en una semana. Los días de la semana son: **domingo, lunes, martes, miércoles, jueves, viernes, y sábado**.
- El calendario también muestra cuántos días hay en un mes. Este mes tiene **30** días.

## Páginas de Ayuda

Suma:

Cuando hallas **cuántos hay en total**, sumas. El signo de suma (+) dice que sumas.



$$2 \text{ tigres} + 3 \text{ tigres} = 5 \text{ tigres}$$

Hay **5 tigres** en total.



$$1 \text{ pato} + 2 \text{ patos} = 3 \text{ patos}$$

Hay **3 patos** en total.